



ISTORIJA

Valstybinio brandos egzamino užduotis

2002 m. birželio 5 d.

Trukmė – 2,5 val. (150 min.)

Užduotį PDF formatu parengė Nacionalinis egzaminų centras. Ji publikuojama Interneto svetainėje www.egzaminai.lt, kuri remiama AB „Lietuvos telekomas“ pagal paramos švietimui programą „KOMPasas“



1. Kuriame variante išvardyti tik socializmo doktrinos šalininkai?

- A J. Andropovas, Dž. Garibaldi, Mao Dzedungas, A. Sniečkus.
 - B F. Engelsas, V. Kapsukas, V. Leninas, K. Marksas.
 - C V. Leninas, L. Brežnevas, K. Marksas, H. Trumenas.
 - D V. Leninas, J. Stalinas, Ž. Ž. Ruso, L. Trockis.
-

2. Rinkimų teisė moterims daugelyje Europos šalių pirmąsyk buvo suteikta:

- A XIX a. pirmoje pusėje;
 - B XIX a. antroje pusėje;
 - C XX a. pirmoje pusėje;
 - D XX a. antroje pusėje.
-

3. Legitimumo sąvoka reiškia:

- A tautų apsisprendimo teisę;
 - B vyriausybės politiką teisėsaugos srityje;
 - C vyriausybės valdžios teisėtumą;
 - D valstybės nesikišimą į ekonominį gyvenimą.
-

4. Neutrali valstybė yra ta, kuri:

- A neprekiauja su kitomis valstybėmis;
 - B nedalyvauja jokios tarptautinės organizacijos veikloje;
 - C nedalyvauja kariniuose blokuose ar sąjungose;
 - D neturi savo kariuomenės.
-

5. Politinė doktrina, neigianti valdžios ir valstybės reikalingumą, vadinama:

- A anarchizmu;
 - B liberalizmu;
 - C nacionalizmu;
 - D socializmu.
-

6. Suverenitetas demokratinėse valstybėse priklauso:

- A parlamentui;
 - B prezidentui;
 - C tautai;
 - D teismui.
-

7. Pagal 1992 m. Lietuvos Respublikos Konstituciją gerai besimokantiems piliečiams valstybinėse aukštosiose mokyklose:

- A laiduojamas¹ nemokamas mokslas;
- B reikia mokėti tik 1000 Lt per metus;
- C taikomos lengvatos² gauti kreditą;
- D taikomas mažesnis mokestis už mokslą.

¹ laiduojamas – гарантируется – zapewniony, gwarantowany

² lengvatos – льготы – ulgi, zniżki

8. Pagal 1992 m. Lietuvos Respublikos Konstituciją vyriausiasis valstybės ginkluotųjų pajėgų vadas yra:

- A Kariuomenės vadas;
- B Krašto apsaugos ministras;
- C Respublikos Prezidentas;
- D Seimo pirmininkas.

9. Kovodamas už Indijos nepriklausomybę, M. Gandis pasisakė už:

- A partizaninį karą;
- B pilietinį karą;
- C pilietinį nepaklusnumą;
- D valstybės perversmą.

10. JAV parlamentas vadinamas:

- A Atstovų rūmais;
- B Baltaisiais rūmais;
- C Kongresu;
- D Senatu.

11. Kuriame variante yra išvardintos tik federacinės valstybės?

- A Indija, Rusija, Kanada, Vokietija.
- B JAV, Brazilija, Prancūzija, Lenkija.
- C Japonija, Švedija, Vokietija, Didžioji Britanija.
- D Kinija, Izraelis, Japonija, Australija.

12. Kuriame variante yra išvardinti liberalizmo atstovai?

- A Aristotelis, Platonas.
- B E. Berkas, T. Hobsas.
- C Dž. Lokas, Monteskjė.
- D A. Smitas, Dž. Milis.

13. Pagal 1992 m. Lietuvos Respublikos Konstituciją valstybės biudžetą tvirtina:

- A Konstitucinis teismas;
- B Respublikos Prezidentas;
- C Seimas;
- D Vyriausybė.

14. Pagal 1992 m. Lietuvos Respublikos Konstituciją:

- A katalikų religija yra valstybinė;
- B minties, tikėjimo ir sąžinės laisvė¹ yra nevaržoma²;
- C tikybos mokymas yra privalomas;
- D valstybė varžo religijos išpažinimą³.

¹ sąžinės laisvė – свобода совести – wolność sumienia

² nevaržoma – не ограничивается – nie ograniczona

³ išpažinimas – вероисповедание – wyznawanie

15. 1992 m. Lietuvos Respublikos Konstitucija įtvirtino:

- A autoritarinį valdymą;
 - B parlamentinį valdymą;
 - C prezidentinį valdymą;
 - D pusiau prezidentinį valdymą.
-

16. Lietuvos Respublikoje tarpukario metais buvo privalomas:

- A aukštasis mokslas;
 - B dešimtmetis mokymas;
 - C pradinis mokymas;
 - D vidurinis mokymas.
-

17. Sovietiniam laikotarpiui Lietuvoje būdinga:

- A daugiapartinė sistema;
 - B katalikų bažnyčios varžymas;
 - C pramonės privatizacija;
 - D žodžio ir spaudos laisvė.
-

18. Tarpukario laikotarpiu Lietuvoje:

- A nutiesta Vilniaus–Klaipėdos autostrada;
 - B pastatyta Kauno hidroelektrinė;
 - C pradėtos transliuoti radijo programos;
 - D pradėtos transliuoti televizijos programos.
-

19. Vilniaus kraštas ir Klaipėdos kraštas Lietuvos Respublikai nepriklausė:

- A nuo 1938 m. kovo iki 1939 m. kovo;
 - B nuo 1939 m. kovo iki 1939 m. spalio;
 - C nuo 1939 m. rugpjūčio iki 1939 m. spalio;
 - D nuo 1939 m. spalio iki 1940 m. birželio.
-

20. 1940–1941 m. sovietinėje Lietuvoje vyko:

- A gyventojų trėmimas;
 - B krašto industrializacija;
 - C masinė kolektyvizacija;
 - D partizaninis karas.
-

21. Kuriame variante visos išvardytos asmenybės yra Lietuvos prezidentai?

- A V. Adamkus, A. Brazauskas, A. Stulginskis, A. Sniečkus.
 - B V. Adamkus, A. Stulginskis, K. Grinius, A. Smetona.
 - C V. Adamkus, A. Brazauskas, A. Smetona, A. Voldemaras.
 - D V. Adamkus, K. Grinius, J. Ambrazevičius, A. Stulginskis.
-

22. 1941 m. birželio mėn. sukilimą Lietuvoje organizavo:

- A LAF-as;
 - B LDDP;
 - C LKP;
 - D VLIK-as.
-

23. Didysis Vilniaus Seimas reikalavo:

- A Caro atsistatydinimo;
- B LDK atkūrimo;
- C Lietuvos autonomijos;
- D Lietuvos nepriklausomybės.

24. 1990 m. kovo 11 d. Lietuvos Nepriklausomybės Akta priėmė:

- A Aukščiausioji Taryba – Atkuriamasis Seimas;
- B Lietuvos persitvarkymo sąjūdis;
- C Lietuvos vyriausybė;
- D Steigiamasis Seimas.

25. Žymus XIX a. Lietuvos istorikas yra:

- A M. Daukša;
- B S. Daukantas;
- C M. Strijkovskis;
- D A. Šapoka.

26. Lietuvoje XIX a. pirmoje pusėje:

- A panaikinta baudžiava;
- B pradėjo eiti laikraštis „Aušra“;
- C uždarytas Vilniaus universitetas;
- D uždrausta lietuviška spauda.

27. XVIII a. Lenkijos ir Lietuvos valstybės politiniam gyvenimui buvo būdinga:

- A absoliutinė monarcho valdžia;
- B politinis stabilumas;
- C respublikinio valdymo įsigalėjimas¹;
- D svetimų valstybių įtakos išaugimas.

28. Pasirinkite teisingą šių procesų chronologinę tvarką:

- | | |
|--------------------------------------|---------------|
| 1. feodalinių santykių atsiradimas; | A 1, 2, 4, 3. |
| 2. gotikos atsiradimas Prancūzijoje; | B 1, 4, 2, 3. |
| 3. humanizmo pradžia Italijoje; | C 3, 1, 4, 2. |
| 4. Kliuni bažnytinė reforma. | D 4, 2, 3, 1. |

29. XVIII a. Lietuvoje įsteigta Edukacinė komisija:

- A išplėtė jėzuitų veiklą mokyklose;
- B įsteigė pirmąsias pradžios mokyklas;
- C supasaulietino² švietimo sistemą;
- D uždarė protestantų mokyklas.

30. Lietuvos vardas pirmą kartą rašytiniuose šaltiniuose paminėtas:

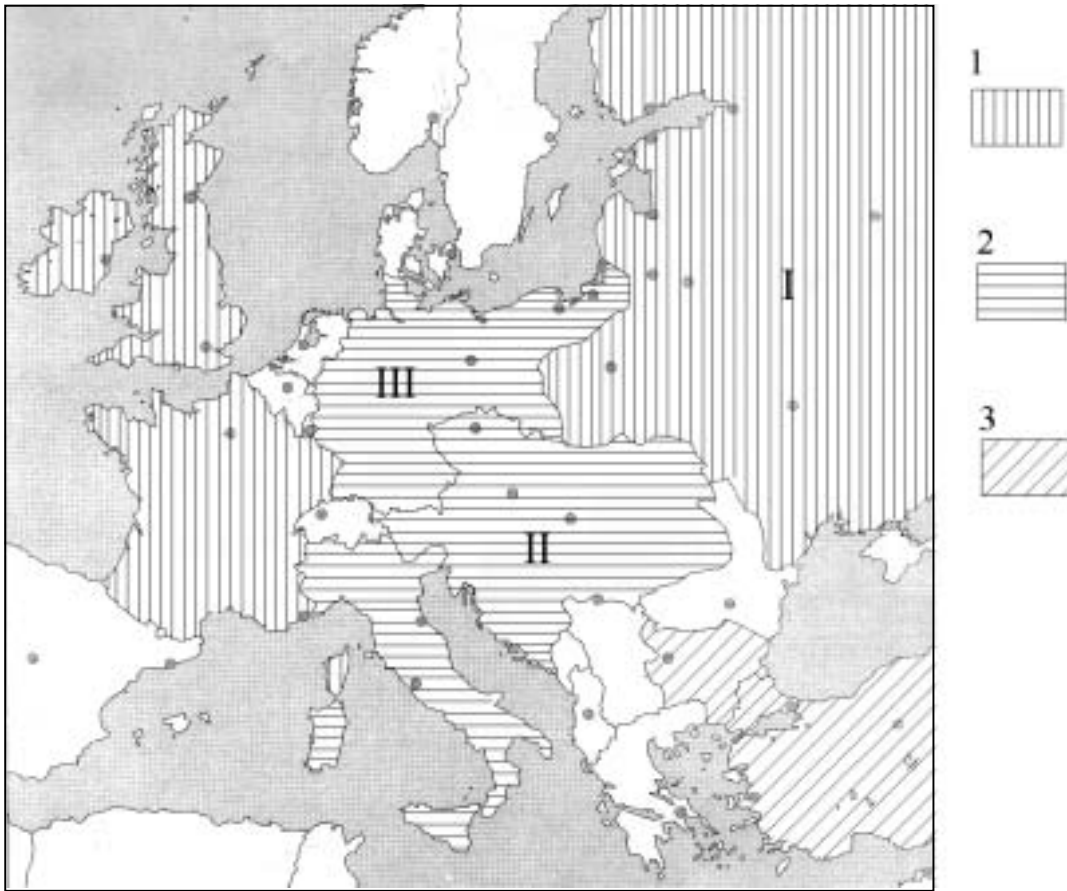
- A I amžiuje;
- B IX amžiuje;
- C XI amžiuje;
- D XIII amžiuje.

¹ įsigalėjimas – утверждение – uprawomocnienie

² supasaulėtinti – сделать светской – uwolnić się wpływu kościoła

I 31–41 klausimus atsakykite remdamiesi žemėlapiais.

ŽEMĖLAPIS A



ŽEMĖLAPIS B



31. Kurio laikotarpio valstybių sienos pavaizduotos žemėlapyje A?

.....
(1 taškas)

32. Po kurio istorinio įvykio susiformavo žemėlapyje B pavaizduotų valstybių sienos?

.....
(1 taškas)

33. Remdamiesi žemėlapiu A, įvardykite valstybes pažymėtas pirmuoju sutartiniu ženkle. Kaip vadinama šių valstybių sukurta karinė sąjunga? Kelintais metais ji buvo galutinai sukurta?

Valstybės

Karinė sąjunga Metai

(3 taškai)

34. Remdamiesi žemėlapiu A, įvardykite valstybes pažymėtas antruoju sutartiniu ženkle. Kaip vadinama šių valstybių sukurta karinė sąjunga? Kelintais metais ji buvo galutinai sukurta?

Valstybės

Karinė sąjunga Metai

(3 taškai)

35. Remdamiesi žemėlapiu A, įvardykite valstybes pažymėtas trečiuoju sutartiniu ženkle. Nurodykite karinę sąjungą prie kurios vėliau šios valstybės prisijungė.

Valstybės

Karinė sąjunga

(2 taškai)

36. Palyginę žemėlapius A ir B, nurodykite penkis naujai susikūrusias valstybes, priklausiusias valstybei žemėlapyje A pažymėtai romėnišku skaičiumi I.

.....
(1 taškas)

37. Palyginę žemėlapius A ir B, nurodykite tris valstybes, kurios susikūrė iš valstybės, žemėlapyje A pažymėtos romėnišku skaičiumi II.

.....
(1 taškas)

38. Palyginę žemėlapius A ir B, nurodykite bent dvi teritorijas, kurias prarado valstybė, žemėlapyje A pažymėta romėnišku skaičiumi III.

.....
(2 taškai)

	Čia rašo vertintojai		
	I	II	III
31.			
32.			
33.			
34.			
35.			
36.			
37.			
38.			

39. Remdamiesi žemėlapiu B, įvardykite teritorijas, pažymėtas skaičiais 1, 2, 3.

1 , 2 , 3

(3 taškai)

40. Remdamiesi žemėlapiu B, įvardykite teritorijas, pažymėtas skaičiais 4, 5.

4 , 5

(1 taškas)

41. Žemėlapyje B užbrūkšniuokite valstybę, kuri pirmoji prarado nepriklausomybę.

(1 taškas)

Čia rašo vertintojai		
I	II	III

TAŠKŲ SUMA

Į 42–55 klausimus atsakykite remdamiesi šaltiniais A, B, C, D, E.

ŠALTINIS A (Iš Herodoto „Istorijos“)

Vieniems liepė iš Arabijos kalnuose esančių skaldyklų vilkti [...] didžiulius akmenis, kitiems – kelti juos laivais ir tempti iki vadinamųjų Libijos kalnų. Visą tą laiką dirbo 100 000 žmonių keisdamiesi kas trys mėnesiai. Visus tuos labai varginančius darbus žmonės dirbo šitiek laiko: 10 metų truko, kol buvo nutiestas kelias, kuriuo vilko akmenis, [...] ne mažiau truko laiko kol [...] buvo pastatyti požeminiai ruimai [patalpos] jo kapui.

ŠALTINIS B


Dabar, šeimininke, tave sutikau aš,-
Mirties, tos baisios, tegu nepamatysiu! Dievai,
Šeimininkė byloja jam, Gilgamešui:
Gilgamešai, kur tu veržiesi?

Gyvenimo, kurio ieškai, tu nesurasi!
kuomet žmogų jie kūrė,-
Mirtį tada jie žmogui paskyrė,
Gyvenimą savo rankose pasiliko.

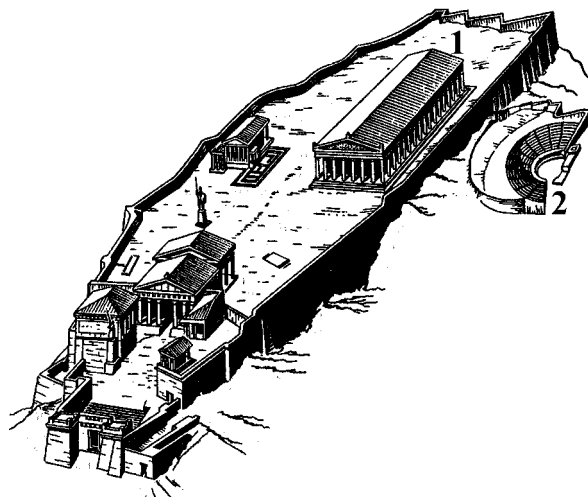
ŠALTINIS C (Iš Dvylikos lentelių įstatymo)

VIII. 14 [...] Laisvuosius žmones, sugautus vagiant su daiktiniu įkalčiu, nubausti kūno bausme ir atiduoti apvogtąjam, o vergus išplakti rimbu ir numesti nuo uolos, bet nepilnamečių atžvilgiu buvo nustatyta: arba skirti jiems pretoriaus nuožiūra kūno bausmę, arba priversti atlyginti nuostolius.

ŠALTINIS D



ŠALTINIS E



	Čia rašo vertintojai		
	I	II	III
<p>42. Kurį istorinį laikotarpį atspindi šaltiniai A, B, C, D, E?</p> <p>.....</p> <p style="text-align: right;">(1 taškas)</p>			
<p>43. Kurių valstybių arba civilizacijų palikimas atsispindi šiuose šaltiniuose?</p> <p>Šaltinis A Šaltinis B</p> <p>Šaltinis C Šaltinis D</p> <p>Šaltinis E</p> <p style="text-align: right;">(5 taškai)</p>			
<p>44. Nurodykite šaltinius, iš kurių sužinome apie Antikos pasiekimus.</p> <p>.....</p> <p style="text-align: right;">(1 taškas)</p>			
<p>45. Kaip vadinamas statinys, kurio statyba aprašoma šaltinyje A?</p> <p>.....</p> <p style="text-align: right;">(1 taškas)</p>			
<p>46. Kaip vadinamas kūrinys, kurio ištrauka pateikta šaltinyje B?</p> <p>.....</p> <p style="text-align: right;">(1 taškas)</p>			
<p>47. Išnagrinę šaltinį B padarykite dvi išvadas apie to meto žmonių religiją.</p> <p>1)</p> <p>2)</p> <p style="text-align: right;">(2 taškai)</p>			
<p>48. Teigiama, kad <i>Dvylikos lentelių įstatymas</i> (šaltinis C) yra „svarbus tos civilizacijos palikimas“. <i>Paašškinkite šį teiginį.</i></p> <p>.....</p> <p>.....</p> <p style="text-align: right;">(1 taškas)</p>			
<p>49. Kurių dviejų socialinių sluoksnių nelygiatėisė padėtis atsispindi šaltinyje C?</p> <p>.....</p> <p style="text-align: right;">(1 taškas)</p>			
<p>50. Palyginę šaltiniuose D ir E vaizduojamus statinius nurodykite, kuo sutampa jų paskirtis?</p> <p>.....</p> <p style="text-align: right;">(1 taškas)</p>			
<p>51. Kaip vadinama šaltinyje E vaizduojama miesto dalis (statinių kompleksas)?</p> <p>.....</p> <p style="text-align: right;">(1 taškas)</p>			
<p>52. Šaltinyje E skaičiais 1 ir 2 paženklinti statiniai. Įvardykite statinius ir nurodykite jų paskirtį.</p> <p>Statinys Paskirtis</p>			

Statinys Paskirtis

(2 taškai)

53. Kurios meno šakos pasiekimai ryškiausiai atsispindi šaltinyje E?

.....

(1 taškas)

54. Kaip šaltinio A autorius ir šaltinyje E vaizduojama vietovė yra susiję?

.....

(1 taškas)

55. Kuris iš šaltiniuose A, D, E vaizduojamų ar minimų statinių yra laikomas vienu iš septynių pasaulio stebuklų?

.....

(1 taškas)

Čia rašo vertintojai		
I	II	III

TAŠKŲ SUMA

I 56–65 klausimus atsakykite remdamiesi šaltiniais A, B, C, D, E.

ŠALTINIS A

	Šiaurinės valstijos	Pietinės valstijos
Valstijų skaičius	23	11
Gyventojų skaičius	22 mln.	9 mln.
Geležinkeliai	71 %	29 %
Fabrikai ir gamyklos	86 %	14 %
Pramonės darbininkai	92 %	8 %

ŠALTINIS B (Iš Pietinių valstijų viceprezidento kalbos)

Mūsų naujos respublikos kertinis akmuo yra ta didžioji tiesa, kad negras nėra lygiavertis su baltuoju žmogum; vergija [...] jiems yra natūralus dalykas. Pirmoji pasaulio istorijoje yra mūsų naujoji valdžia, kuri remiasi šia didžiąja fizine, filosofine ir moraline tiesa.

ŠALTINIS C (Iš 1862 m. prezidento kalbos)

Aš noriu išgelbėti Sąjungą. [...] Jeigu kas nors trokšta išgelbėti Sąjungą tik su sąlyga, kad vergija bus išsaugota, aš su jais nesutinku. Jei kas nors trokšta išgelbėti Sąjungą tik su sąlyga, kad vergija bus panaikinta, aš ir su jais nesutinku. Svarbiausias mano tikslas šioje kovoje – išgelbėti Sąjungą, o ne išsaugoti ar panaikinti vergiją.

ŠALTINIS D (Iš 1863 m. prezidento kalbos).

Prieš aštuoniasdešimt septynerius metus mūsų tėvai laisvėje pagimdė naują tautą šiame žemyne, tikėdami, kad visi žmonės sukurti būti lygūs [...]

Mes įsitikinę, kad žmonės žuvo neveltui. Ši tauta su Dievo padėjimu iš naujo atgims laisvėje ir kad žmonių valdžia, vykdoma pačių žmonių ir žmonių labui, niekada neišnyks nuo žemės paviršiaus.

ŠALTINIS E (Konstitucijos XIII pataisa)

Nei Jungtinėse Valstijose, nei kurioje kitoje jų jurisdikcijoje esančioje vietoje negali būti nei vergijos, nei priverstinės tarnystės, išskyrus atvejus, kai bausmės skiriamos už nusikaltimus, už kuriuos asmenys buvo prideramai nubausti.

56. Kokia bendra tema sieja šaltinius A, B, C, D, E?

.....
(1 taškas)

57. Palyginę šaltinio A statistinius duomenis, padarykite išvadą apie šiaurinių ir pietinių valstijų ūkio raidos skirtumus.

.....
(1 taškas)

58. Kokia yra pagrindinė pietinių valstijų viceprezidento (šaltinis B) kalbos mintis?

.....
(1 taškas)

59. Įvardykite prezidentą, kurio kalbą ištraukos pateiktos šaltiniuose C ir D.

.....
(1 taškas)

60. Remdamiesi šaltiniu C nurodykite pagrindinį prezidento politikos tikslą.

.....
(1 taškas)

61. Šaltinyje D prezidentas mini įvykį, vykusį prieš aštuoniasdešimt septynerius metus. Įvardykite šį įvykį ir nurodykite jo metus.

Įvykis....., metai.....
(2 taškai)

62. Kurias dvi žmogaus prigimtines teises akcentuoja prezidentas (šaltinis D)?

.....
(2 taškai)

63. Kurią valstybės valdymo formą propaguoja šaltinio D autorius?

.....
(1 taškas)

64. Palyginę šaltinius B ir D, nustatykite kuo iš esmės skiriasi jų autorių pažiūros.

.....
(1 taškas)

65. Remdamiesi šaltiniu E, paaiškinkite, kaip buvo išspręstas pagrindinis prieštaravimas, atsispindintis šaltiniuose B ir D.

.....
(1 taškas)

Čia rašo vertintojai

I II III

TAŠKŲ SUMA

I 66–79 klausimus atsakykite remdamiesi šaltiniais A, B, C, D, E, F.

ŠALTINIS A (Iš knygos „Išgelbėję pasaulį...“)

Dvi lietuvaitės Žaliojį gatvę slėpė ir globojo gydytoją Leviną. Vėliau gestapas tat susekė ir abi lietuvaitės kartu su Dr. Levinu sušaudė.

ŠALTINIS B



ŠALTINIS C

Lietuvos Respublikos Aukščiausioji Taryba lietuvių tautos vardu pareiškia, kad be išlygų smerkia hitlerinės okupacijos metais Lietuvoje vykdytą genocidą prieš žydų tautą ir su širdgėla pažymi, kad tarp okupantams tarnavusių budelių buvo ir Lietuvos piliečių.

Nusikaltimams, įvykdytiems prieš žydų tautą Lietuvoje ir už jos ribų, nėra ir negali būti jokio pateisinimo bei baudžiamojo persekiojimo senaties terminų. [...] Lietuvos Respublika netoleruos jokių antisemitizmo apraiškų

ŠALTINIS D

Žydų genocidas II pasaulinio karo metais

Šalis	Bendras žydų skaičius 1939 m. rug.mėn.	Nužudytų žydų skaičius	Nužudytų žydų proc.
Lenkija	3 300 000	2 800 000	85,0
Okupuota SSRS teritorija	2 100 000	1 500 000	71,4
Rumunija	850 000	425 000	50,0
Čekoslovakija	315 000	260 000	82,5
Vokietija	210 000	170 000	81,0
Lietuva	153 743*	135 000*	90,0
Italija	57 000	15 000	26,0

* Duomenys be Vilniaus ir Vilniaus krašto žydų.

ŠALTINIS E (Iš 1388 m. privilegijos)

Mes Aleksandras, arba Vytautas, iš Dievo malonės Didysis Lietuvos kunigaikštis [...] davėme teises ir laisves visiems žydams, gyvenantiems mūsų valstybėje [...] jeigu koksai žydas, prispirtas labai didelio reikalo, nakties laiku šauktų, o krikščionys jam pagalbon nebėgtų, tai visi kaimynai, ir žydai taip pat, turi užmokėti trisdešimt šilingų [...] esame nustatę, kad žydai visus daiktus laisvai pirktų ir pardavinėtų [...], o kas draus, turės mums užmokėti baudą.

ŠALTINIS F (Iš „Naujausiųjų laikų istorijos“)

Nuo nacių teroro labiausiai nukentėjo žydai [...]. Nekaltų žmonių krauju susitėpė ir keli šimtai lietuvių. Vieni tai darė iš godumo, kiti dėl savo antisemitinių pažiūrų, tretii iš kvailumo, ketvirtii vien todėl, kad galėjo nebaudžiami žudyti, dar kitus privertė vokiečiai. [...] Vokiečių propagandistai įrodinėjo, kad masinės žudynės yra vietinių gyventojų keršto žydams akcijos.

	Čia rašo vertintojai		
	I	II	III
<p>66. Remdamiesi šaltiniais A, B, C, D, E, F išskirkite keturis Lietuvos istorijos laikotarpius (etapus), kuriuose savitai klostėsi lietuvių ir žydų santykiai. Laikotarpius surašykite chronologine tvarka ir kiekvienam laikotarpiui priskirkite jį atspindintį(-čius) šaltinį(-ius).</p> <p>Laikotarpis šaltinis(-iai)</p> <p>Laikotarpis šaltinis(-iai)</p> <p>Laikotarpis šaltinis(-iai)</p> <p>Laikotarpis šaltinis(-iai)</p> <p style="text-align: right;"><i>(4 taškai)</i></p>			
<p>67. Nurodykite bent vieną XIX a. arba XX a. laikotarpį, kuris neatsispindi užduotyje pateiktuose šaltiniuose.</p> <p>.....</p> <p style="text-align: right;"><i>(1 taškas)</i></p>			
<p>68. Nustatę, kada vyko masinės Lietuvos žydų žudynės, nurodykite, kurios valstybės iniciatyva tai buvo daroma. <i>Atsakymą pagrįskite remdamiesi šaltiniu A.</i></p> <p>Valstybė.....</p> <p>Atsakymo pagrindimas</p> <p style="text-align: right;"><i>(2 taškai)</i></p>			
<p>69. Kam, anot šaltinio F autorių, naciai siekė suversti kaltę dėl žydų žudynių Lietuvoje?</p> <p>.....</p> <p>.....</p> <p style="text-align: right;"><i>(1 taškas)</i></p>			
<p>70. Kokiu specifiniu terminu yra vadinamas žydų genocidas?</p> <p>.....</p> <p style="text-align: right;"><i>(1 taškas)</i></p>			
<p>71. Nustatę šalį (šaltinis D), kurioje žydų procentine išraiška buvo sunaikinta daugiausiai, nurodykite bent dvi priežastis, kodėl vietos gyventojai dalyvavo žudynėse. <i>Atsakydami pasiremkitė šaltiniu F.</i></p> <p>.....</p> <p>.....</p> <p style="text-align: right;"><i>(1 taškas)</i></p>			
<p>72. Nustatę šalį (šaltinis D), kurioje žydų procentine išraiška buvo sunaikinta mažiausiai, paaiškinkite, kodėl taip atsitiko.</p> <p>.....</p> <p>.....</p> <p style="text-align: right;"><i>(1 taškas)</i></p>			

73. Palyginę šaltinius A ir F, nurodykite skirtingą lietuvių elgesį žydų žudynių metu.

.....

(1 taškas)

74. Kokiu tikslu buvo priimtas šaltinyje C pateiktas dokumentas?

.....

(1 taškas)

75. Paaiškinkite šaltinio C teiginį „Lietuvos Respublika netoleruos jokių antisemitizmo apraiškų“.

.....

(1 taškas)

76. Kokiu tikslu buvo priimtas šaltinyje E pateiktas dokumentas?

.....

(1 taškas)

77. Suraskite šaltinyje E teiginį, kurio mintis siejasi su šaltinyje A aprašytu įvykiu. *Atsakymą paaiškinkite.*

Teiginys

Paaiškinimas

(2 taškai)

78. Įvardiję įstaigą, kurios antspaudas matomas šaltinyje B, paaiškinkite, ką šios įstaigos egzistavimas byloja apie tuometinę žydų padėtį Lietuvos valstybėje?

.....

(1 taškas)

79. Kuriame šaltinyje suformuluotos nuostatos, turinčios ateityje pozityviai veikti lietuvių ir žydų santykius?

.....

(1 taškas)

Čia rašo vertintojai		
I	II	III

TAŠKŲ SUMA			
------------	--	--	--

Juodraštis